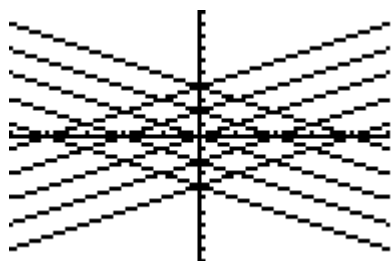


Voici des copies d'écran obtenues sur calculatrice : choisissez-en une et essayez de la reproduire sur votre calculatrice. Recopiez sur cette feuille les équations des droites que vous avez utilisées.

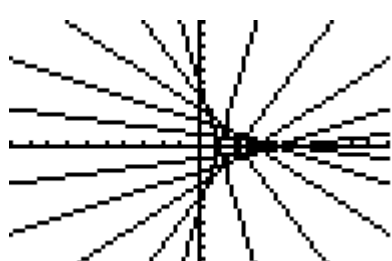
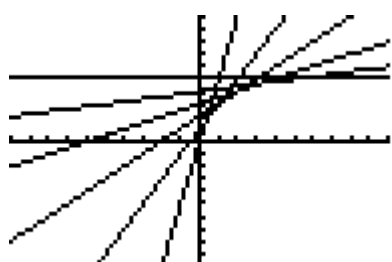
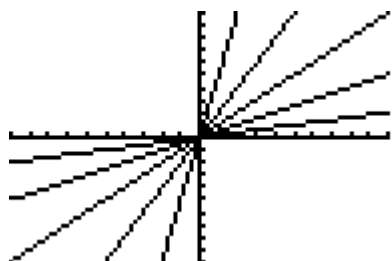


NOM1 :

NOM2 :

NOM3 :

NOM4 :



Voici des copies d'écran obtenues sur calculatrice : choisissez-en une et essayez de la reproduire sur votre calculatrice. Recopiez sur cette feuille les équations des paraboles que vous avez utilisées.

